






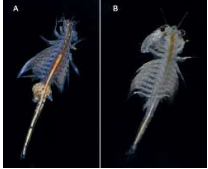







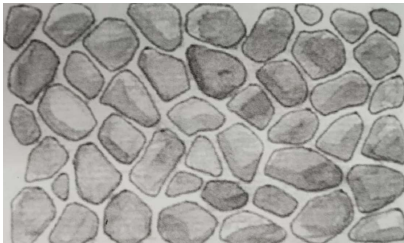









新北市「海好有你」海洋擂台賽題庫






項目	題目
1	<p>這是在白米甕炮台所拍攝照片，請問照片左方是什麼島嶼？它位在哪個海域？</p> 
2	<p>根據下面的網站截圖，此網站可以用來查詢什麼樣的資訊？</p> 
3	<p>請問下圖中的自然景觀，經常出現在以下哪一個地區，吸引民眾前往欣賞？</p> 
4	<p>下列圖片中的景象最可能出現在哪個地方？</p> 
5	<p>下圖位於新北市海岸的自然景觀，是因海岸地層的上升，礁岩長期被海浪沖刷，質地鬆軟的部份被侵蝕，留下堅硬的部份形成了溝槽。請問這個自然景觀的名稱是什麼？</p> 
6	<p>配合下圖，關於「岬角」地形岩石的抗蝕力，下列敘述何者正確？</p> 
7	<p>配合下圖，關於「灣澳」地形岩石的抗蝕力，下列敘述何者正確？</p> 

8	<p>這是野柳岬的岩石上發現的化石照片，請問他是什麼生物的化石？</p> 
9	<p>新北市東北部一帶大多是岩岸，海岸岩石受到海浪不斷地拍打，逐漸碎裂，鬆軟的岩石尤其容易凹陷、崩垮，長久之後，容易形成曲曲折折的海岸線，使得整個東北角海岸像是由一連串的「凹」、「凸」字型排列而成，請問像圖片中突出於海岸的地形，我們稱之為什麼？</p> 
10	<p>圖片為新北市貢寮區的澳底漁港，這樣的港口為了方便大型漁船進出，而不至於底部觸礁，通常會建造於什麼樣的海岸？</p> 
11	<p>下圖是野柳豆腐岩，請問豆腐岩的裂面稱為</p> 
12	<p>為何火烈鳥食用豐年蝦後羽毛由灰轉為粉紅色？</p> 
13	<p>下圖是豐年蝦的卵囊放大圖，何者敘述錯誤？</p> 

14	<p>下圖是豐年蝦公母圖片，請問如何分辨性別是錯的？</p> 
15	<p>下列哪一種海鮮屬於低碳海鮮，其碳足跡較低，有利於環境保護及海洋保育。</p>
16	<p>下圖為金山礮火捕魚蹦火仔，主要為何種漁法？</p> 
17	<p>金山蹦火仔漁船「富吉268號」為目前世界上僅存的一艘蹦火船，圖中「火長」手持的火炬，在火把點燃瞬間會產生強光並發出「蹦」的巨響，蹦火的原理為？</p> 
18	<p>以下哪個才是寄居蟹最愛的家？</p>
19	<p>新北市瑞芳深澳打卡熱點「象鼻岩」，112年12月16日「象鼻」突應聲斷裂落入海中，臺灣頓時少了一個經典的熱門景點。請問：造成象鼻斷裂的風化應力為何？</p> 
20	<p>以下何者「非」象鼻岩附近可從事的海上休閒活動？</p> 
21	<p>請判斷下列圖片屬於哪種海岸？</p> 

22	<p>臺灣各地有許多推廣海洋文化的觀光活動，請問以下哪個海洋文化觀光活動是以照片中的魚類為主題？</p>  <p>資料來源：臺灣魚類資料庫</p>
23	<p>請問若你來到貢寮地區旅遊，想到著名的貢寮九孔池看看，你最可能看到什麼樣的場景？</p>
24	<p>海洋生物常誤食海洋垃圾造成消化不良、腸道阻塞及營養不良，最後導致虛弱、生病甚至死亡，其中以海龜常誤食塑膠袋為例，最可能的原因是？</p> 
25	<p>東北角卯澳漁村特色建築【石頭屋】，是先民就地取材聘請石匠打石為材所建而成。請問下列石牆砌法是</p> 
26	<p>東北角卯澳漁村特色建築【石頭屋】，是先民就地取材聘請石匠打石為材所建而成。請問下圖的石牆砌法是哪一種？</p> 
27	<p>東北角卯澳漁村特色建築【石頭屋】，是先民就地取材聘請石匠打石為材所建而成。請問下圖的石牆砌法是哪一種？</p> 
28	<p>「鑽轎腳」又稱「鑽轎底」是指讓信徒趴跪在神明出巡或繞境的路上，讓神轎從身上越過，或利用神轎停駐從轎底爬過，希望藉此獲神明庇佑，趨吉避凶。★請問下面哪個圖片可具體體現「鑽轎腳」的圖片</p>

29	<p>下圖生物被稱為「海邊的清道夫」，幾乎什麼東西都吃，居住在殼裡，請問我們都叫他什麼？</p> 
30	<p>下圖是在魚群最密集靠岸時，以一艘舢舨將網撒到海裡，而其餘兩端則固定在岸邊，魚群被圍住後，再由岸上數十人協力將魚網拉上岸，請問這是什麼樣的捕魚方式？</p> 
31	<p>大海的女神-媽祖，祂的隨行將軍千里眼與順風耳的神樣應是下圖何者？</p>
32	<p>新北市位於台灣北部，擁有豐富的海洋資源，是台灣海洋運動的重要發展基地，可適合的水域安全活動有哪些？</p>
33	<p>日前新北市著名的地標「象鼻岩」，不敵雨水及風浪的侵蝕終於斷裂了，請問「象鼻岩」所在的行政區域在哪裡？</p> 
34	<p>海漂物的國際條碼是一種由13位數字組成的條碼，用於識別海漂物的來源地。該條碼由以下三部分組成：前三位數字：代表海漂物的註冊國家或地區。第四至六位數字：代表海漂物的生產商或進口商。第七至十三位數字：代表海漂物的產品代碼。請問下圖中的國際條碼(4710095704603)，最有可能是來自哪一個國家的海漂物？</p> 
35	<p>新北市海岸線長達120餘公里，幅員遼闊，新北市的東北、北部、西北部均臨海，可發展許多海洋資源及水域活動，請問下圖最有可能發展的項目是為何？</p> 

36	<p>雨洋到北海岸海邊戲水，看到海邊有人在進行水域運動，於是拍照下來，想下次來玩，但又不知道是屬於哪項水域運動，請幫忙看圖片中這是屬於哪一項水域運動？</p> 
37	<p>宜玲去新北市中角灣衝浪中心衝浪，發現有人衝浪時，手裡拿著一隻槳在划，好奇想請問大家，問圖片中這是哪一項水域運動？</p> 
38	<p>宜潔想去海邊戲水，在岸邊看見了有顏色的旗幟，想請問下圖旗幟，代表意義是指？</p> 
39	<p>和欣想去海邊戲水，想到老師有交代戲水時，需要有人陪同，須到合法且安全水域，並且最好自己要攜帶救生設備進行戲水，她想到上課時，老師有說過的其中一項救生設備進行戲水，又忘記名稱，想請大家幫她看看下圖圖片中是屬於哪一項救生設備？</p> 
40	<p>請問下圖救溺五步驟中，少了哪兩個步驟？</p> 

慶驊想參加水域活動，想到老師有教導戲水時需要注意事項的一張圖片，請問下圖指的是哪十招？



石滬漁業是一種在潮間帶上疊砌石堤，以便在退潮時阻斷洄游魚群的退路，把魚兒圍困在石堤內來捕撈的陷阱漁法，下列圖片最可能出現在哪裡？



仔細看看媽祖的造型，大多體態豐腴，面部慈祥、和藹，雙眼微闔，呈仔細聆聽狀，傾聽信徒心事。下列何者最接近媽祖的形象？





下列圖片為水的什麼過程？



臺灣製鹽的方式，在明鄭時期之前，原住民多以煎煮海水、或者刮取海邊礁石的薄薄鹽層來取得鹽分。後來利用太陽日曬的輻射熱能和風力，使海水自然蒸發濃縮、結晶成鹽，稱為「天日晒鹽」法。請問下列何者最不可能利用此方法製鹽？



國際生態旅遊協會(The Ecotourism Society)及國際自然保育聯盟(IUCN)明確的將生態旅遊定義為：「生態旅遊是一種負責任的旅遊，顧及環境保育，並維護地方住民的福利」。

47	<p>依據《世界文化與自然遺產保護公約》之執行指導方針，文化景觀是文化資產，同時代表著「人類與自然結合之作」。亦就是自然環境與人類生活互動後所產生的結果。依據上面的說法，哪一個可能不屬於文化景觀？</p>
48	<p>下列圖片是屬於哪一種捕魚方式？</p> 
49	<p>請根據下圖，下列敘述何者錯誤？</p> 
50	<p>漁業署自110年7月起，規定沿近海漁民在使用下圖漁具時，須在浮球或浮子上清楚標示屬名，違者將處以罰鍰。請問下圖漁具是使用於何種捕撈漁業？</p> 
51	<p>下圖是一種臺灣古老的捕魚方式，利用魚類最密集靠岸的時候將魚群圍住，岸上的人協力將魚網拉上來，請問這種捕魚方式最適合的地形是？</p> 

52	<p>這四艘船是臺灣原住民的傳統獨木舟，每年會祈福出海豐收，請問他們主要慶典活動是？</p> 
53	<p>下圖不可能從事哪一種漁撈方式？</p> 
54	<p>2020東京奧運在新冠肺炎全球疫情肆虐的情況下，史無前例並艱難地完成了，許多人透過運動員們在場上拚搏、不放棄的精神有所感動。奧運比賽項目不單只有陸上的運動，也有水上的運動，請依照圖片編號找出正確的運動項目名稱順序</p> <div style="display: flex; justify-content: space-around;"> <div style="text-align: center;"> <p>1</p>  </div> <div style="text-align: center;"> <p>2</p>  </div> </div> <div style="text-align: center; margin-top: 20px;"> <p>3</p>  </div>
55	<p>請根據圖片選出最有關連的情境。</p> 

56	<p>由圖片可以發現同一片海卻有不同顏色，而不同顏色所代表的海洋特性也有所區分。請問下列哪一種情況最不可能？</p> 
57	<p>這種動物會把貝類放在自己的胸前仰泳，拿著石頭用力敲破貝殼吃，牠的名字是什麼？</p> 
58	<p>照片中的鯨魚在每年春末夏季時，可於臺灣東部外海見到一～二次的洄游群體，請問這是哪一種鯨魚【照片由鯨豚專家余欣怡博士提供】</p> 
59	<p>海水在不同地方、不同時間，顏色會有所不同。如圖所示，其海水顏色不一可能是哪些原因造成的？</p> 
60	<p>下圖為兩種在臺灣海鮮選擇指南中，被列為不建議食用的魚種，試問這兩種魚有何相似性？</p> 

下圖左、右皆為市場常見的頭足類生物，但其中的鎖管在臺灣海鮮指南中被歸類為建議食用物種，烏賊則被歸類為應斟酌食用的物種，下列敘述何者正確。

61



黑鮪魚為臺灣海鮮選擇指南中建議避免食用的物種，下圖為黑鮪魚在近半世紀以來的每年捕獲量(圖一)與預估族群數量(圖二)，請依據本題提供的資訊，選出最適當的選項。

62

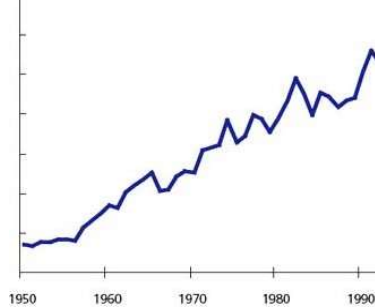


圖1

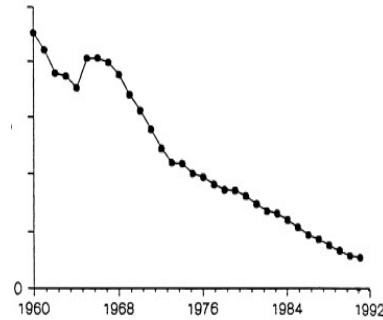
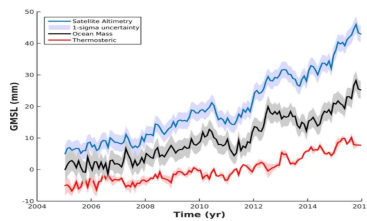


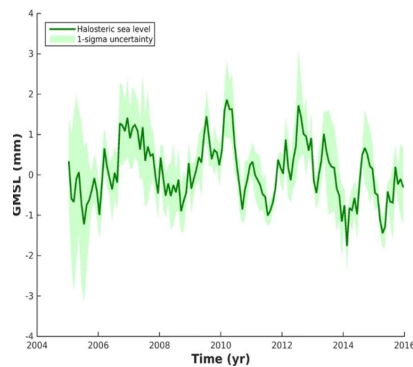
圖2

下圖一為2005-2015年間，利用衛星測高儀(藍線)、推估海水質量(黑線)與海水溫度變化效應(紅線)三種不同方式所估算出的全球海平面平均高度(GMSL)變化趨勢，圖二為海水鹽度變化效應(綠線)對全球海平面平均高度的貢獻值，試根據圖一與圖二，選出最適合的答案。

63



圖一



圖二

臺灣沿海小漁村，每年定期舉行牽罟活動，全村動員合作，將巨大漁網拖拉上岸，卸下漁獲，村民均分，饒富人情味，其使用的漁具是：

64



請問下列圖片是臺灣特有的什麼活動呢？

65



認識臺灣海洋文化有很多種方式，其中一種是親海，請問下列圖片中親近海洋的活動為何呢？

66



臺灣為美食大國，其中蚵仔煎又可號稱臺灣國民美食，請問哪一個地區的海洋文化與蚵仔有密切關係呢？



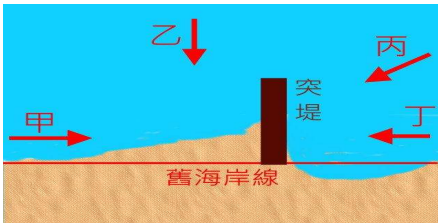

67



下圖為臺灣北海岸的地圖，請問哪一個地點可能是漁港所在地？

68



69	<p>有一天，大明到餐廳用餐，端上桌的是煮好的鸚哥魚，讓他油然升起一陣悲傷感，急忙向同桌的夥伴說明此魚儘量不要食用，請問是為什麼呢？</p> 
70	<p>相傳媽祖林默娘出生於福建莆田湄洲島。媽祖原本是大海的女神，臺灣沿海漁民需要媽祖庇佑，媽祖廟在臺灣也愈來愈普遍。新北市也有眾多媽祖廟，請問以下哪一個「不是」媽祖廟內景物？</p>
71	<p>新北市近年推出「青春山海線」旅遊路線，希望吸引更多人至新北市美麗的海岸線進行戶外生態旅遊。請問，下圖中哪一個景點在4月分清明時節最美，曾被CNN票選為臺灣八大秘境呢？</p>
72	<p>北海岸因其特殊環境條件，近年積極復育某臺灣原生種植物。試從附圖判斷此植物的名稱？</p> 
73	<p>請問下圖中兩隻寄居蟹在做什麼？</p> 
74	<p>圖為某海岸突堤效應的示意圖，請問沿岸流的流向可能是圖中甲、乙、丙、丁哪一個？</p> 
75	<p>北海岸的麟山鼻著名的景觀是風稜石，風稜石的形成條件之一就是附近要有大量細砂，細砂在東北季風的吹拂下磨蝕岩石表面，由地圖判斷，那些地方較可能提供磨蝕岩石的沙源？</p> 

到東北角海邊旅遊時，常可見攤販販售圖中的冷飲，請問這種冷飲名稱是什麼？

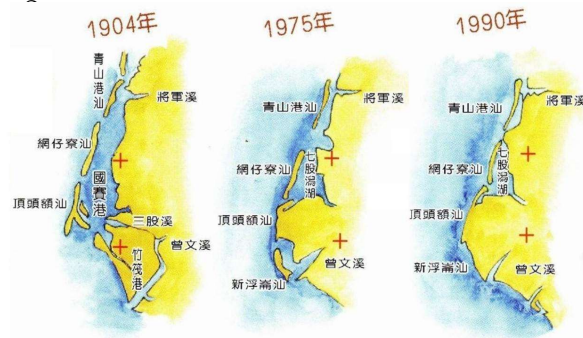


76

77 風稜石是北海岸地區特殊的自然景觀，是由強風侵蝕而形成，下圖何者屬於風稜石？

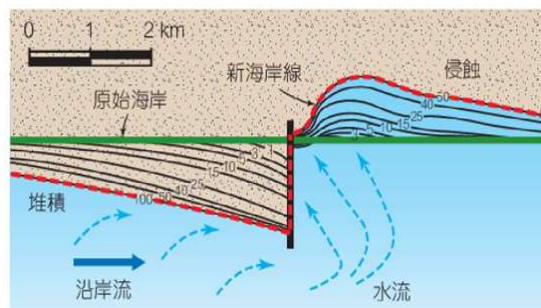
78 下列何者是臺灣北海岸最容易看到的景觀且為此地主要的海岸類型？

阿睿參加社區旅行團來到臺江國家公園，看到了解說牌如下圖，從解說牌中可以得到下列哪項資訊？



79

「沙灘縮小了！」新北市貢寮區的福隆沙灘，因核四廠的施工導致沿海的沙子堆積在建築物的上游側海岸，建築物下游則產生侵蝕(如下圖)，請問此種現象稱為？



80

圖中顯示的是新北市東北角的海洋相關產業，請問有可能是下列何者？



81

圖中顯示的是新北市東北角的海洋相關產業，請問這是採取何種養殖方法？

82



臺灣全部有13個國家風景區，請問下圖中框選的部分是依山傍海、灣岬相間的哪一個風景區？

83



84 請問下列何者為「臺灣海鮮選擇指南」裡避免食用的水產呢？

位於新北市貢寮區卯澳的石頭屋，是先民運用智慧與火山地形的石材產生「人與自然的互動」建築物。請問該建築除了提供居住、曬穀之外，主要具備何種使用功能：




85



在東北角海岸線上的水滴地區，有一處海水顏色一半藍色一半黃色，涇渭分明，這特殊地理景觀稱為？

86



87	<p>圖中因人類超抽地下水造成地層下陷，海水就會入侵土壤，讓地下水層都被鹽化了，土壤也就會產生鹽化的現象。又稱為？</p> 
88	<p>這是從三貂角燈塔往海邊拍攝的景觀，從照片中可看到海岸邊有方格狀的養殖設施。請問該設施最有可能養殖何種水產？</p> 
89	<p>最有可能的形成圖片中景觀的原因為何？</p> 
90	<p>圖片中的景觀最有可能位在臺灣的哪個海岸？</p> 
91	<p>鼻頭角燈塔最有可能位在下列哪一張照片的所在地？</p>

圖片的景觀是從瑞芳望向鼻頭角方向，請問圖中望向的方向應該是下列哪個方位？

92



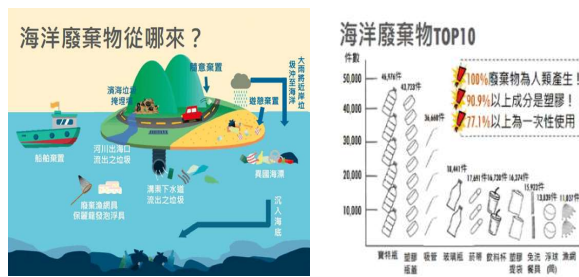
圖片中所呈現友善環境的養殖漁業方式是以下哪一種？

93



請仔細觀察(附圖一、二)，並歸納這兩個圖得到的啟示，請問下列選項中，哪一種方式是友善環境，保護全球海洋比較可行的策略方法？

94



資料來源：荒野保護協會2018年淨灘統計

下圖酷似女王頭的砂岩侵蝕後特殊現象，最有可能在下列哪一個地方看到？

95



請參考圖片，根據歷史記載，西元1626年西班牙船艦由菲律賓開抵臺灣東北角海域，因不詳地名，為了便於記載航海日誌，以拉丁文命此地為San Diego（聖地牙哥）的地方是？



96

暑假到了，小明與大明兩兄弟從網路上看到新北市18條優質校外教學路線資訊，決定到極東燈塔-三貂角燈塔來趟知性之旅。並報名當地導覽小旅行，報到時間為上午10:30，結束時間為下午3:30。家長已經為他們打好從臺北到福隆的火車票-區間車4145號9:50到福隆。小明與大明到福隆站之後查閱黃金福隆線公車時刻表，他們該怎麼搭車才不會遲到也不會搭不到回程的火車呢？

黃金福隆線 假日時刻表 ---

去程 → 往馬崗(三貂角燈塔)					
福隆	香蘭	大香蘭	卯澳	佛祖廟	馬崗 (三貂角燈塔)
10:00	10:02	10:04	10:06	10:08	10:10
11:00	11:02	11:04	11:06	11:08	11:10
13:00	13:02	13:04	13:06	13:08	13:10
14:00	14:02	14:04	14:06	14:08	14:10
16:10	16:12	16:14	16:16	16:18	16:20

回程 → 往 臺端瑞芳站						
班次	馬崗 (三貂角燈塔)	佛祖廟	卯澳	大香蘭	香蘭	福隆遊客中心
1	10:25	10:27	10:29	10:31	10:33	10:34
2	11:25	11:27	11:29	11:31	11:33	11:34
3	13:25	13:27	13:29	13:31	13:33	13:34
4	14:25	14:27	14:29	14:31	14:33	14:34
5	16:25	16:27	16:29	16:31	16:33	16:34

97

以下為貢寮區腳踏車環狀線卯澳段旁的一處告示牌內容，請依據告示牌資訊，找出下列敘述哪一個是錯誤的：

新北市-貢寮水產動植物繁殖保育區
 縣市別：新北市
 公告日期：101/04/05
 公告文號：基府農漁字第10142435241號。
 限制事項：
 貢寮區福送里卯澳至洋寮鼻距岸300公尺之海域。

1. 石花菜每年10月1日起至次年4月15日止禁止採捕或販賣。
2. 九孔殼長未滿4公分者禁止採捕，試驗研究或養殖目的且經該府核准者，不予禁止。
3. 龍蝦殼長未滿20公分者禁止採捕，試驗研究或養殖目的且經該府核准者，不予禁止。
4. 海膽不食刺殼長未滿8公分者禁止採捕，試驗研究或養殖目的且經該府核准者，不予禁止。
5. 禁止使用潛水器材採捕九孔、海膽、龍蝦、石花菜。
6. 禁止非以釣具類漁具之漁船進入保育區範圍內作業。

保育對象：九孔、海膽、龍蝦、石花菜
 保護等級分類：3

98

馬崗海蝕平臺是一生態多樣的潮間帶，蘊含豐富的藻類。請觀察下圖，你認為這群遊客可能進行的活動中，下列哪項敘述「不對」？

99



請參照圖片中的石頭屋，下面敘述哪一項是「不」正確的？

100



這是位於淡水的舢舨船，船首畫著眼睛，依照眼珠觀看的方向，請問代表著什麼意思？

101



臺灣北海岸金山擁有全世界唯一僅存的古老漁法，不但被列入金山八景之一，更在2015年登錄為新北市文化資產，請問此圖中的漁法是？

102



燭臺雙嶼擁有「金山八景」的美名，又名夫妻石，現今的風貌是屬於岩岸地區的何種海蝕地形？

103



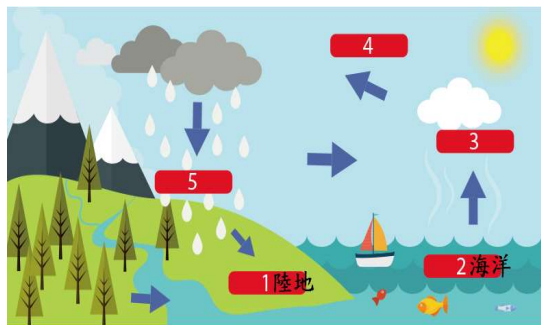
請問這張照片裡的漁撈方式，主要是針對哪一種漁獲？

104



下圖為水循環的過程圖，請問依順序3-5應填入什麼？

105



有時會在海邊看到下圖寄居蟹的模樣，背後背著塑膠製品而不是貝殼。請問下列是哪種行為造成這樣的狀況發生？

106



魚類捕撈方式有很多種，下圖是哪一種方式？

107



108	<p>下圖是以豐年蝦為食的鳥類，請問牠的名字是什麼？</p> 
109	<p>下面這張照片的行為，會產生哪一種有毒物質危害生物健康？</p> 
110	<p>請問圖片裡的貝殼適合當寄居蟹的家嗎?為什麼?</p> 
111	<p>在海灘、河川等開放水域看到這個警告標誌，表示應注意何種地形？ (圖片來源:教育部體育署-教師用教學系統-水上安全標誌認知與救生衣 https://watersafety.sa.gov.tw/waterEdu/topic.html#)</p> 

船隻航行於國際海上會使用旗號彼此溝通訊息，請問此字母旗V代表什麼意思？

112



這是位於新北市海岸的著名景點，因長期受到東北季風侵蝕與海浪拍打，就像一隻伸長鼻子的大象佇立在懸崖岬角故得名，請問此象鼻岩位於何處？

113



船運是重要的運輸方式，為了提升營運的效益及確保貨物品質，進而發展出滿足特殊用途的專用船，請問圖片中的油輪較容易在哪裡看到？

114



115

小洋住在新北市淡水河畔，喜愛跟家人划獨木舟，請問下圖何者是獨木舟？

116

圖片中是由Mola Mola「曼波魚」(又名太陽魚或月光魚)做成的料理，請問「曼波魚」就是下列哪一種魚？



下圖是萬里有名的螃蟹之一，請問這是下列哪一種螃蟹？

117



請問下圖是早期居民利用海水的哪種特性來捕魚？

118



下列哪一個答案最「不」可能是塑膠瓶蓋成為寄居蟹容身之所的原因？

119



下圖是巧恩去年參加「新北萬里蟹季」時，吃萬里蟹拍攝的照片，新鮮的蟹肉總是讓人回味無窮，請問今年如果還想吃到新鮮的螃蟹，大約在什麼節日可品嚐到？

120



漁的足跡-走遍天涯

本圖是魚翅羹料理，請問這道料理用了哪種魚的魚鰭？

121



本圖是用鯊魚魚鰭做的魚翅羹，請問吃魚翅產生的問題何者為「非」？

122



本圖是哪一種水域自救法？



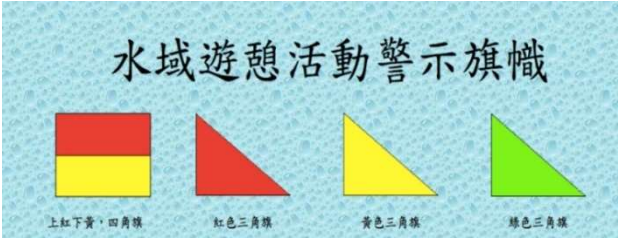


123



所謂螃蟹要長到8公分以上才能捕捉，是指螃蟹身體哪個部位的寬度？

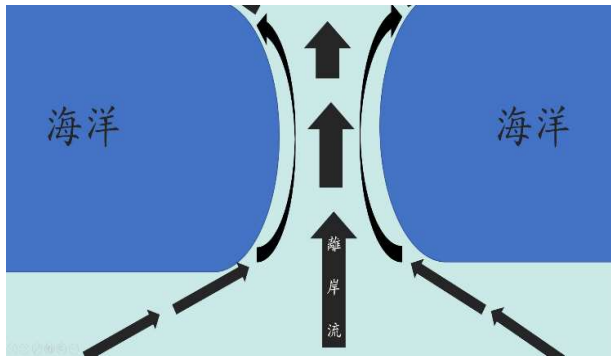
124



125	<p>小錢熱愛水上活動，最近學習人站在專業槳板上使用單手或雙手運用全身肌肉來划行，藉此鍛鍊身體，應該係屬下列何種活動？</p> 
126	<p>下圖救溺五步的正確順序應為？</p> 
127	<p>請參考下圖，根據水域安全標誌，請問何種旗幟顏色是「水域關閉，危險!請勿下水」？</p> 
128	<p>小明到東北角玩，發現海邊的樹型長相奇特，都偏向一邊生長，請問這是什麼原因造成的？</p> 
129	<p>海邊戲水常見下圖旗幟，它的功能是什麼？</p> 

海邊戲水若是不慎遇到離岸流，請問該如何自救？

130



下圖中，傳統金山區的漁民利用礮火捕魚，其運用的原理是什麼？

131



圖片中的水域自救技能是什麼？

132



圖片中常用在水域運動的救生工具是什麼？

133



小白去海邊玩，發現潮間帶有一種特色的生物，請問這是哪種生物？

134



下圖是哪一種海洋休閒運動？

135



傳統漁民都會供奉哪一位神明，以祈求航行平安，有人亦稱祂為大海的女神？

136



某國小六年級的同學到東北角一日小旅行，在參觀的過程中看到下圖的景觀，這是屬於哪一種海岸地形？

137



圖片中的地質景點最有可能位在下列哪一個地理位置？

138



結合獨木舟和衝浪的運動叫做什麼？

139



東諺參加學校的新北市步道校外教學，導遊介紹此條步道有著『臺版萬里長城』的稱號，請問此條步道坐落於哪個地點？

140



海上浮潛運動是夏季最夯的活動之一，小花一行人從臺北到龍洞海水浴場遊玩，為了安全起見教練要求大家手扶橘色圓圈依序漂浮前進，請問圖片中大家扶著粉白色相間圓圈稱作什麼？



141



子魚想要學衝浪，適合初學者衝浪的時間為？

142



143	<p>小峰到瑞芳區表姊家住，表姊帶小峰到北海岸海邊玩，拍了許多海邊的照片，請問照片中不會出現哪個特色景物？</p> 
144	<p>水上運動是炎炎夏日最快樂的活動之一，請問圖片中同學們在進行什麼活動？</p> 
145	<p>游泳戲水時要注意安全，如遇他人溺水，千萬不要自己隨意下水救人，可應用防溺5步「叫、叫、伸、拋、划」，間接進行搭救。口訣中第二個「叫」為打電話求救的意思，以下哪一個不是求救的電話號碼？</p>
146	<p>假日時，小虎與家人到鹽寮海水浴場遊憩，他注意到戶外水域環境所懸掛標示旗幟為紅色三角旗時，其所代表意義為何？</p>
147	<p>近年來國際社會持續提倡保育及永續利用海洋生態系，臺灣政府也著手修法以因應國際趨勢，並提醒從事漁業的人員應選用對海洋生態相對友善的漁撈方法。根據上述內容，下列哪種漁撈方法目前已不符合現今永續觀念，正逐漸被禁止使用？</p>
148	<p>新北市政府以「萬里蟹」之名串連新北特色漁港，並落實「地產地消」概念，舉行秋冬限定的假日活蟹市集。小石在今年「萬里蟹」的假日活蟹市集，最不可能見到下列哪種螃蟹種類？</p>
149	<p>為了推廣海洋保育，我們應積極鼓勵消費者在符合海洋永續的前提下謹慎挑選海鮮，下列有關海鮮選擇的敘述，何者正確？</p>
150	<p>石斑魚是宴席中常見的高級魚種，然而養殖石斑魚在臺灣海鮮選擇指南中卻是被列為黃燈(斟酌食用)的魚種，主要原因為何？</p>
151	<p>海洋里的里長非常熱心，里民們遇到大小事都會到里長辦公室詢問或尋求協助。不管里民的問題是什麼，里長都盡心盡力協助解決。請問以下哪句英諺語能用來形容里長對里民來者不拒的服務態度？</p>
152	<p>堅硬的螺殼對陸寄居蟹是不可缺少的東西，以下何者不是螺殼提供給寄居蟹的好處？</p>
153	<p>為了守護海洋，達到海洋永續資源，減緩海洋物種頻臨滅絕危機，近年開始推行「慢魚運動」，請問下面哪一項行為符合「慢魚運動」？</p>
154	<p>關於寄居蟹的描述哪一項正確？</p>
155	<p>臺灣民眾對媽祖的信仰深刻，綜觀其原因，除了祂是海上守護神外，還因為媽祖有什麼樣的意象？</p>
156	<p>臺灣最東端岬角「San Diego」，後世的人沿用此名稱，成為我們現在耳熟能詳的「三貂角」，請問「San Diego」是由哪一國人統治臺灣時所命名？</p>
157	<p>許多漁民發現，現在能捕撈到的漁產數量比以前少很多，甚至要前往更遠的海洋中才能找到品質佳的漁產。這是海洋給了我們何種警訊？</p>

158	跳水是一項刺激的水域活動；下列哪個場合適合從事跳水活動？
159	到海邊從事釣魚、潛水等水域休閒活動，應穿著哪種鞋款，較為安全？
160	請問下列水上遊憩工具不是以人力作為動力來源？
161	每年秋季，萬里會舉辦「新北萬里蟹季」活動，請問所謂的「萬里蟹」不包括下列哪一種蟹？
162	請問從事哪一項水域活動需要穿蛙鞋？
163	防溺五步「叫、叫、伸、拋、划」，第二個「叫」是指？
164	發現有人溺水時，你應該要如何幫助溺水的人？
165	放暑假囉！小朋友到海邊玩水，應該怎麼做才對？
166	施芸想要去海邊玩水，她想選擇正確海邊戲水水域，所以請問海邊插有什麼樣式顏色的旗子，代表有救生員駐站，得於水域開放時間內，在兩支旗之間戲水。
167	宜希玩水前想穿救生衣，請問穿著救生衣時須注意事項，下列哪一項正確？
168	成諭想要去划獨木舟，要準備划獨木舟要用的器材以及水域安全設備，請問下列哪一種不是划獨木舟時，必須準備的器材？
169	余楊想要去合法開放水域進行水域活動，且攜帶相關救生設備，請問下列哪一項不屬於水域救生設備或用品？
170	下列哪一項不是從事水域休閒活動時應該注意的事項？
171	小安準備去鹿母潭溪進行溯溪活動，準備衣服時，請問下列哪一項不建議準備？
172	下列哪一項是可以提供遇溺者浮力的救生用品？
173	小明想從淡水碼頭划獨木舟，到紅樹林自然保留區觀察生態，請問他要特別注意哪方面的資訊？
174	小明家到餐廳吃海鮮，根據「臺灣海鮮選擇指南」，建議他們選哪種海鮮？
175	以提供游泳等海灘活動，並設有救生人員專責守望之水域需有「水域遊憩活動警示旗幟」。下列哪一個旗幟的顏色不是水域遊憩活動警示旗幟的顏色？
176	從臺灣北部出發向南行，風景會跟著改變，到了彰化、雲林、嘉義、臺南等縣市，會看見許多魚塭養殖場，臺灣地區養殖漁業區分為淡水魚塭養殖、鹹水魚塭養殖及海面養殖3大類，然而這些養殖漁業會對環境產生什麼影響？
177	「網罟」是漁夫捕魚的法寶，網罟可不是隨便架就能夠捕到魚，漁夫們必須觀察流水的方向，請問「網」是指？「罟」是指？
178	大海的女神——媽祖原是沿海居民之守護神，現今媽祖信仰在臺灣愈來愈重要，傳說中她還在哪些方面保佑人們，以下敘述何者為非？
179	吻仔魚吃鮎代；鯽仔魚釣大魷仔，這句俗諺的主要意涵為何？
180	近年非常熱門的打卡景點，位於瑞芳區深澳海岸象鼻岩風景區，此景觀是如何形成？
181	早期瑞芳區深澳灣內有一天然的沙灘，但歷經深澳港的擴建及濱海公路拓寬，因此不斷縮減沙灘區域，最終沙灘就此消失，請問這是哪一個沙灘景點？
182	下列哪一處不屬於新北市瑞芳區特色景點？
183	「海水是藍天的影子 浪花是雲的影子 魚是鳥的影子 沙灘上點點發亮的貝殼 是星星的影子」 請問這是形容哪裡的景象？

184	臺灣民間對於媽祖的信仰相當普遍，到處都能看到以媽祖為主神崇拜的廟宇，以下哪一個不是媽祖的別名？
185	「All is fish that comes to my net.」中文翻譯為何？
186	There are plenty more fish in the sea. 所衍生的意思與下列閩南語俗諺何者相似？
187	下列有關媽祖相關諺語，何者敘述有誤？
188	小誠與同學假日規劃至新北市貢寮區舊草嶺環狀線自行車道騎腳踏車小旅行，他們上網檢索並規劃路線行經馬崗及卯澳兩個村落進行探索，請問以下有關馬崗及卯澳的相關資訊哪個是錯誤的？
189	下列哪一句英語諺語是與"來者不拒；老少咸宜"的意思相近？
190	小展最近與家人參加了白沙屯媽祖進香的活動，請問關於臺灣人的媽祖信仰何者為
191	根據史料記載，媽祖出生的地方靠近海洋，居民大多以從事漁業為生。因為媽祖在世時幫助了許多漁民，死後也有許多神蹟顯靈的傳說，鄉民紛紛為媽祖建廟祭祀，後來因為大陸移民來臺，媽祖成為保佑他們安全渡海的神明，漸漸地也成為臺灣重要的民間信仰，請問媽祖出生於哪裡？
192	從事海洋水域運動之前，應先瞭解海洋水域運動常見的危險，才能避免危險的發生。如果真的遇到溺水事件，可以依據「救溺五步」叫叫伸拋划來救溺水的人。下面哪一個是「伸」的動作？
193	依據「臺灣海鮮選擇指南」，下列哪一項海鮮挑選原則的敘述「不正確」？
194	依據「臺灣海鮮選擇指南」中的水產品分類，下列何者是建議避免食用的食材？
195	保護海洋，進行淨灘活動，我們可以自己準備減塑四寶包含哪些？
196	造成學生溺水死亡的最主要原因為何？
197	根據2018年國聖埔沙灘海洋廢棄物調查數據，哪一項不在前5名之內？
198	2016年的德翔臺北輪是擱淺在哪一個地方的外海？
199	臺灣四面環海，海鮮一直是國人最喜歡享用的美食之一，不少國人出國旅遊時，會選擇赴臨海國家享用新鮮且便宜的海產，不過臺灣四面環海、海洋資源相當豐富，海鮮價格卻稱不上親民。臺灣明明也是海島國家，海鮮價格卻賣得特別貴，港口海產更是價格驚人，「為什麼臺灣海鮮那麼貴？」，因此正確選擇漁貨的方式應該為何？ (甲)選擇臺灣在地生產的海鮮 (乙)購買食物鏈高層的大型掠食魚(丙)選擇洄游性的魚類 (丁)選擇生活模式係屬定棲種的魚類
200	走訪北海岸漁港所捕獲的漁獲，下列哪些不應屬於北海岸應有的魚貨種類？
201	臺灣海洋資源豐富，選擇海鮮產品應該要有的海洋素養為何？
202	購買水產品要注意的事項，下列何者不正確：
203	有關萬里蟹的敘述，下列何者不正確：
204	水循環對我們的生活有什麼影響？
205	「Venture a small fish to catch a great one」與下列哪個俚語意思相近？

206	漁村生態旅遊是一種兼顧自然保育與遊憩發展的旅遊活動，在最小的環境衝擊下，運用漁村在地資源發展遊憩活動，產生經濟效益、創造漁村就業機會，在產業發展與環境生態之間取得平衡點。這種旅遊方式是「負責任」的旅遊，下列哪項旅遊活動是 <u>不符合</u> 生態旅遊的做法？
207	有全臺最老廟宇之稱的澎湖天后宮為國家一級古蹟，於崇相集中有紀載「澎湖港形如葫蘆，上有天妃宮」，後來福建水師提督施琅宣稱擊敗東寧王國軍隊多賴媽祖娘娘顯靈襄助，並奏請當時的皇帝加封，晉天妃為天后，故今稱「天后宮」。請問天妃宮是於何朝代更名為天后宮？
208	臺灣有句俗諺「龜山若戴紗帽，風颱就要到」，請問你覺得它代表的意思最有可能
209	客家歌謠中提到「勸君莫過黑水溝」黑水溝是指？
210	寄居蟹要用什麼方式固定在殼裡面 <u>不會</u> 掉出來？
211	臺灣最東端的 <u>馬崗</u> 漁村盛產石花菜。每年五月過後，走進漁村隨處可見村民滿地曝曬石花菜。下列對石花菜的敘述哪一項是 <u>錯誤</u> 的？
212	關於挑選海鮮時的底食原則，何者敘述錯誤？
213	請問下列關於臺灣養殖漁業的敘述何者錯誤？
214	下列餐廳常出現的菜色，何者較在消費時對海洋環境造成的負面影響最低？
215	下列有關海洋垃圾的敘述，何者正確？
216	地球常被稱為「水藍色的星球」，海洋佔地球總面積的 70.8%，但海洋汙染超過 80% 垃圾來自人類陸地上的活動，雅雅到海邊戲水遊玩順便淨灘，她檢到了大量的同類物品，上網查了一下，果真是2020票選海洋垃圾的第一名，請問是哪一類呢？
217	以下關於媽祖文化成為臺灣很重要信仰的敘述，何者 <u>錯誤</u> ？
218	關於海洋俚語，有一句「A bird in hand is worth two in the bush.」請問是什麼意思呢
219	大星喜歡進行生態旅遊，特別是自然環境，有一天他去了一個地方，除了名字有浪漫的起源外，潔白的燈塔襯著藍天白雲，一望無際的海洋更讓人心曠神怡。往左邊一望，有著因經濟發展而建的養殖業，仔細看看地質構造，是由砂岩和頁岩組成的，請問大星到底去了哪裡，才能看到這麼美麗的景觀呢？
220	就 <u>赫胥黎</u> 文化模式而言，包含三個層面：(A)精神事物(B)社會事物(C)工藝事物。以上列模式界定漁村文化事物的類別及內涵，下列敘述何者為 <u>非</u> ？
221	有句臺語俗諺「雙腳踏雙船」，請問與下列哪句英語諺語意思最相近？
222	臺灣北部冬季東北季風旺盛，風中夾帶細沙，長期下來，將原本質地堅硬的安山岩，磨出許多不規則的稜角來，而形成風稜石，請問何處盛行此種地形？
223	北海岸麟山鼻著名的景觀是風稜石，風稜石現象的生成必須具備某些條件，其中一個條件是要有「長期的強風」，請問下列哪一個時期較符合上述的條件？
224	寄居蟹通常以下列何在海岸邊常常都會觀察到許多的陸寄居蟹，請問陸寄居蟹的主食，以下何者為 <u>非</u> ？
225	大部份的寄居蟹活動習性為？
226	北海岸多元化的海岸地質孕育了多變的生態環境。以下何者 <u>並非</u> 北海岸 <u>三芝區</u> 到 <u>萬里區</u> 之間的生態特色？
227	下列何者 <u>不是</u> 臺灣海鮮指南當中挑選海鮮的原則？
228	海水佔地球總表面積71%，同時海洋也是水循環的源頭，太陽提供動力來源，海洋水氣蒸發至空中，凝結成雲，而後落到地面的過程，應該稱為什麼？
229	臺灣地名常與當地的自然環境息息相關。以下哪種地名最可能會出現在岬角、灣澳發達的北海岸？
230	在外地念大學的小智，每年11月份到隔年3月份都需要回到家鄉（新北貢寮）幫忙「000」的活動，請問根據上述時間和地點，小智在忙的是下列什麼活動呢？
231	下列哪些國家風景區位於新北市境內？ 甲、東北角暨宜蘭海岸國家風景區 乙、東部海岸國家風景區 丙、西拉雅國家風景區 丁、北海岸及觀音山國家風景區
232	請問世界海洋日，訂定每年國曆的幾月幾日？

233	選擇魚類水產時，為有效達成永續發展，以下何種方式較為適合？
234	新北市貢寮區擁有豐富的海洋資源，其中養殖九孔更是臺灣知名，請問以下關於貢寮九孔產業的敘述何者錯誤？
235	新北市的海洋資源復育園區除了協助當地物種的繁殖培育外，也肩負推廣海洋保育的工作，提昇國人生態保育之觀念，達到資源維護永續利用之成效。請問上述園區座落於 <u>新北市</u> 哪一區？
236	新北市主要岬角地形區共5個，下列哪一個 <u>不是</u> 位於 <u>新北市</u> ？
237	一般人所稱的北海岸，海岸線長是約幾公里的北部海岸？
238	新北市岬角地形裡的最東點，同時也是臺灣島的最東點，是哪一個岬角呢？
239	臺灣水產養殖中的淺海養殖分為沿海及箱網養殖，其中沿海養殖亦是 <u>貢寮</u> 地區多數養殖的是？
240	在 <u>麟山鼻</u> 與 <u>富貴角</u> 之間，最具特色的海岸地形景觀，屬於風蝕作用所形成的？
241	透過人為經營管理而使漁業資源及生物多樣性得以恢復，追求海岸地區的社會與生態的永續發展，稱為？
242	下列何者 <u>不是</u> 臺灣養殖漁業所造成的常見現象？
243	臺灣沿海養殖漁業相當盛行，請問下列何種魚類「 <u>不是</u> 」臺灣常見的養殖漁業中的魚？
244	為了維護海洋資源，下列哪一項「 <u>不是</u> 」友善海洋環境的做法？
245	下列哪一個 <u>新北市</u> 的行政區沒有鄰近海洋？
246	下列哪一種行為 <u>不是</u> 保護海岸的行動？
247	河口地區漲潮、退潮時，海水鹽度的變化為何？
248	<u>霍霍</u> 想要去海邊去觀察潮間帶，請問下面哪個時間觀察最好？
249	臺灣俗語中有五大毒魚排名，依其毒性強烈的高低順序排列為一紅、二虎、三沙毛、四臭肚、五變身苦。請問對這五種魚類敘述，哪項是 <u>錯誤</u> 的？
250	東北角的 <u>瑞芳</u> 、 <u>澳底</u> 、 <u>貢寮</u> 、 <u>福隆</u> 等地，因離海近且具岩礁及潮間帶地形適合養殖九孔，經歷臺灣九孔養殖業蓬勃發展的黃金時期。然而在1983年和2003年間發生養殖九孔大量死亡的情形，對當地產業造成嚴重打擊。造成養殖九孔大量死亡可能是下列哪
251	新北市貢寮區最近推出「里海小學堂」，由卯澳的漁民和海女講述海女文化、採石花、石頭屋的故事，並且有體驗一日漁夫小旅行的活動。下列有哪些原因是當地居民積極推動在地活化與社區再造的原因呢？
252	每當到夏日，臺灣各地的海岸邊總會聚集前來避暑並享受海洋清涼的人群，體驗浮潛、深潛、水上摩托車等等水上活動，玩得不亦樂乎。在我們享受海洋的過程中，下列哪一種動植物是我們無法在臺灣的海邊遇見的？
253	「腦袋圓圓像雞蛋，八條長腿像小辮，渾身柔軟模樣怪，藏在海底很難見。」請問這是形容哪一種海洋生物？
254	臺灣四面環海，沿海地區大多有天后宮，請問是供奉哪位神明？
255	在閩南語中，「雙趺踏雙船」(siang kha tǎh siang tsūn)的意思是什麼？
256	媽祖被稱為大海的女神，在臺灣沿海地區時常看到媽祖為主神敬拜的廟宇，以下對於媽祖的敘述何者為 <u>非</u> ？
257	漁船上的左舷紅光燈和右舷綠光燈，主要功用是什麼？
258	地球上的水資源分布非常不均，大部分都流回大海中，請問能夠提供人類使用的淡水大約佔整個地球水資源的多少？
259	下列哪一個動物位於食物鏈的最頂端？
260	到市場選擇海鮮時，應注意什麼原則才能維護海洋保育？
261	海洋汙染對人類可能造成許多危害，下列何者敘述錯誤？
262	海洋資源在人類的「過度捕撈」下， <u>不會</u> 面臨到下面那個問題？
263	下列關於「豐年蝦」的敘述哪一項正確？
264	海洋魚類吸收了戴奧辛之後，會儲存在身體哪個部位？
265	挑選海鮮食材時，選擇食物鏈底層的生物種類有助於海洋永續發展，請問以下哪個海洋生物「 <u>不</u> 」屬於食物鏈底層生物？
266	黑潮為臺灣帶來豐富的魚類資源，請問下列哪一種魚「 <u>不是</u> 」黑潮帶來的洄游性魚？
267	有海上黑金的美名，亦是年節的最佳伴手禮，請問是指哪種魚？

268	臺灣四面環海，海上活動頻繁，漁民為求海上平安，因此普遍信奉什麼信仰，並視為航海守護神？
269	每到端午節至暑假期間，東北角海面上常可見飛魚躍出水面做出短暫飛行的景象，其最有可能的原因為何？
270	下面關於 <u>三貂角</u> 的說明，哪一個敘述是正確？
271	我們都曾看到海龜吃塑膠袋或被吸管塞鼻孔的影片或照片，請問為了保護海洋環境我們可以做什麼事？
272	白鯧魚是年節料理，但近年來為何「不」建議吃白鯧魚？
273	想一想，我們每天用的水是從哪裡來的？
274	小水滴最後會回到大海，請問它降落到地面後，有可能會遇到什麼？
275	下列海鮮，何者是比較「不」傷害環境，是建議食用的？
276	捕對魚，買對魚，才能年年有魚。購買海鮮時，下列何者正確？
277	關於慢魚運動的敘述，下列何者 <u>錯誤</u> ？
278	海洋汙染下，愈大型的深海魚類體內累積的有毒物質含量也就愈高，所以要避免食用魚的哪一部分以免吃進大量毒素？
279	戴奧辛進入人體的主要途徑為何？
280	若要從生活中減少戴奧辛的產生，以下方式何者是 <u>錯</u> 的？
281	下列哪些是屬於好玩有趣的親水活動？
282	下列哪一種「不是」正確的水域安全行為？
283	當水域有人發生危險時，可撥打哪支緊急連絡電話？
284	臺灣廟宇眾多，在四面環海的環境下，海邊廟宇最常祭祀的神明是哪位？
285	新北市海岸線長達120餘公里，幅員遼闊，下列哪一項「不」屬於新北市海岸的特
286	海洋在地球上所占的表面積大約是多少？
287	下列哪一種海洋生物「不」屬於哺乳類？
288	請問海星、海膽、陽隧足等生物經常出沒的海濱，其所生長的地區，我們稱之為什
289	海洋資源豐富，可利用海水作為能源發展的動力來源之一，請問以下敘述何者正確？
290	下列哪一個可能「不是」造成臺灣北海岸海洋污染的來源？
291	下列何種魚類「不是」臺灣漁業中常見的魚種？
292	為了維護海洋資源永續，下列哪一項是友善海洋環境的做法？
293	依據「火鶴美麗的祕密~豐年蝦」影片，下列哪一項「不是」火鶴喜愛的食物？
294	依據「豐年蝦的生活史~卵到性成熟」影片，下列哪一個環境較容易發現乾燥的豐年蝦卵粒？
295	當河口地區海水漲潮至滿潮階段時，試問河口海水鹽度會有何變化？
296	下列何者「不是」海水浴場之必備安全設備？
297	下列何者「不是」新北市常見的海洋水域運動？
298	從事海洋水域運動時，下列何者「不安全」？
299	以下哪一個「不是」螃蟹的別名？
300	下列哪一種螃蟹的行走方式是「直行」？
301	螃蟹的耳朵位於哪個部位？
302	下列何者「不是」雄性招潮蟹大螯的主要功用？
303	海洋食物鏈可以分為四個等級，請問下列何者為海洋食物鏈第一等級的生物？
304	每年4~6月，臺灣東岸太平洋海域有大量黑鮪魚，主要原因為何？
305	下列何者「不是」守護海洋的行動？
306	下列何者是正確選擇食用海鮮的方法？
307	下列何者「不屬於」臺灣沿近海漁業水產？
308	下列何者「不屬於」臺灣遠洋漁業的水產？
309	「3月23媽祖生過，在船吃，在船暈。」這句俚俗語指的是什麼意思？
310	「送伊魚，卡輸教他抓魚。」這句俚俗語指的是什麼意思？
311	「會泗甲會沫，攏毋怕的不別字。」這句俚俗語指的是什麼意思？
312	「船仔頭甲蹋仔的份，就娶某。」這句俚俗語指的是什麼意思？

313	下面哪一項較不符合「生態漁撈」的方式？
314	運用「牽罟」的捕魚方式，不會運用到哪一種物品。
315	能夠維持「漁獲量與漁民經濟平衡」的方式， <u>不會</u> 包含下列哪一種。
316	根據2018年國聖埔沙灘海洋廢棄物調查數據，哪一項「不在」前5名之內？
317	能夠減少海洋塑膠廢棄物的方法，「不包含」下面哪一項？
318	千強去河邊玩時，看到有人溺水，想到學校教的救溺五步驟。請問救溺五步驟，「叫、叫、伸、拋、划」中的第一個「叫」是什麼？
319	宜希想要去玩水，並於下水前穿著救生衣，請問穿著救生衣的注意事項，下列哪一項正確？
320	邦仔想要去海邊進行水域運動，請問在進行水域活動時，「不」需注意下列哪一項？
321	成諭想去划獨木舟，需準備划獨木舟使用的器材以及水域安全設備，請問下列哪一種「不是」划獨木舟時，必須準備的器材？
322	小美準備去龍洞灣浮潛，準備行李時，請問下列哪一項物品「不」建議準備？
323	請問浮潛三寶「不」包含下列哪一項？
324	救溺五步是？
325	小安準備去鹿母潭溪進行溯溪活動，準備衣服時，請問下列哪一項「不」建議準備？
326	請問溯溪三寶「不」包含下列哪一項？
327	下列哪一種行為會嚴重危害溪流生物？
328	下列哪一項可以提供遇溺者浮力的救生用品？
329	「浮潛三寶」是浮潛時欸重要安全裝備，浮潛三寶「不」包含？
330	進行水域活動時，要避免溺水並注意安全，下列哪一種行為很危險，「不要」任意做？
331	生態旅遊是一種負責任的旅遊，顧及環境保育，並維護地方住民的福利。你要規劃生態旅遊行程，以下那一個活動「不宜」列入？
332	划獨木舟時，若要前進右轉，應該如何操槳？
333	臺灣民眾「三月瘋媽祖」，尤其以大甲媽祖遶境規模最大，顯示臺灣人對媽祖的信仰深刻，綜觀其原因，除了祂是海上守護神外，還因為媽祖具有什麼樣的意象？
334	衝浪時，身體從衝浪板上站起，是一個專業的動作，這個術語的名稱叫做？
335	到海邊從事釣魚、潛水等水域休閒活動，應穿著哪種鞋款，較為安全？
336	請問鸞Heia是甚麼傳統工具？
337	擁有著名酋長岩的深澳漁港位在新北市哪一個行政區？
338	「慢魚運動」起源於義大利，意思是從了解魚的產地、來源開始，優先選擇在地、當季的海鮮，期望消費者不單是品嚐海鮮，也能尊重、關心海洋生態。請問下列哪一項不屬於「慢魚運動」的內涵？
339	「慢魚運動」起源自義大利，其精神理念為「Good, Clean and Fair Fish」，目的在鼓勵大家了解魚的產地來源，拉近消費者與漁民的距離，以當地、當季作為優先選擇，尊重海洋生態，不過度捕撈，適量吃魚，才能達到海洋資源永續，讓下一代也能安心吃魚。以下那些做為不符合慢魚運動的精神？
340	慢魚運動的理念是「吃在地、吃當季，海洋存本，慢慢捕魚和慢慢吃魚」，其中「海洋存本」是指什麼？
341	「買對魚、吃對魚、才能年年有魚！」我們去買魚時，要買哪一類魚才符合生態保育與永續原則？
342	請為下列哪一個選項符合台灣海鮮挑選指南的原則？
343	買對魚，吃對魚、才能年年有魚，下列何者符合海鮮挑選原則？
344	以下有三種生物，浮游生物、鯊魚和沙丁魚，請依照你對於食物鏈與海洋生物的認識，從低到高，依序排出食物鏈的生物階層。
345	如今海洋環境面臨著許多問題，如過漁、幽靈捕撈等，請問身為消費者的你，可以採取什麼行動保護環境呢？
346	請問以下何種捕魚方式會造成過度捕撈及破壞海洋生態？
347	聯合國估計，全球有將近 90% 的魚種逼近或是已低於可持續生存的數量門檻，其中更有超過 30% 魚種種群已經無法持續生存。請問漁夫大量捕撈的原因有哪些？
348	人類運用哪些方式捕撈海洋生物？

349	魚從生長的地方來到你家餐桌，主要經過哪些步驟？（甲）捕撈（乙）加工（丙）運輸（丁）銷售，請選擇出正確順序。
350	臺灣的養殖漁業對環境產生了什麼影響？
351	臺灣養殖漁業對環境產生哪些影響？
352	臺灣養殖漁業的主要發展區域是哪裡？
353	臺灣養殖漁業的經濟價值提升與環境改善的關鍵解方是什麼？
354	由於人類文明的進步，捕漁方式從傳統以人力為主的捕魚方式進步到仰賴高科技漁業技術，下列何者非臺灣傳統的捕魚方式？
355	台灣四面環海，岬角和灣澳正是北台灣沿海最常出現的海岸地形，請問以下哪個岬角位於台灣最北邊？
356	岬角的海岸地形，觀光資源豐富，下列何者位於新北市。
357	北部海岸的海岸線共長85公里，岬角和海灣交互出現，是臺灣海岸最曲折的一段，他的範圍是：
358	下列哪一個岬角景點，不在新北市境內？
359	下列哪一個灣澳景點，不在新北市境內？
360	新北市共有5個岬角地形區，由西向東依序為麟山鼻、富貴角、野柳岬、鼻頭角、三貂角，請問這些岬角地形區，其主要的岩石成分類別為？
361	下列哪個岬角非位於臺灣北部？
362	狀岩的成因眾多，你認為下列哪一個最不可能是蕈狀岩的成因？
363	去年(2023)12月新聞報導，位於北海岸因海水長期沖蝕及自然風化造成崩塌的自然景觀為下列何者？
364	野柳女王頭形成的原因為何？
365	下列何種海養生物被稱為「海邊的清道夫」？
366	寄居蟹為何需要仰賴空螺殼的庇護？
367	下面哪一項是寄居蟹最舒服的家？ 備註：貝殼的螺紋構造，可以讓寄居蟹的尾板勾住，遇到敵人攻擊時，就縮回貝殼裡用牠最大的螯擋在洞口
368	小明和家人到海邊玩，他看到海邊有許多奇形怪狀的貝殼，他很想撿起來帶回家。下列哪個行為是正確的？
369	下列何者是目前海洋最主要面臨的污染來源？
370	如果水資源遭受污染，最後流向大海，可能會造成哪些問題？
371	燈塔為建築類型的一種，其功能為指引船隻航向，以維護航運安全，下列何者非燈塔理想的設置地點？
372	陽明山國家公園大屯山區發展出許多古道，大多是在清代和日治時代所遺留，其中魚路古道在早期是一條運輸茶葉、硫磺、魚貨的道路，又稱作？
373	阿強去河邊玩時，看到有人溺水，想到學校教的救溺五步驟，請問救溺五步驟，叫、叫、伸、拋、划中的第一個叫是？
374	前往合法水域遊憩活動地點及設有救生員守望場域，從事水域活動通常比較安全，該地點通常會設置「水域遊憩活動警示旗幟」供民眾參考水域現況。 以下哪一個旗幟代表該場域開放時間，設有救生員守望？
375	施芸想要去海邊玩水，她想如何當選擇正確海邊戲水水域，所以請問海邊插有什麼樣式顏色的旗子，代表有救生員駐站，得於水域開放時間內，在兩支旗之間戲水。
376	宜希想要去玩水，並於下水前穿著救生衣，請問穿著救生衣時須注意事項，下列哪一項正確？
377	邦仔想要去海邊進行水域運動，請問在進行水域活動時，不須注意下列哪一項？
378	成諭想要去划獨木舟，要準備划獨木舟要用的器材以及水域安全設備，請問下列哪一種不是划獨木舟時，必需要準備的器材？
379	余楊想要去合法開放水域進行水域活動，且攜帶相關救生設備，請問下列哪一項不屬於水域救生設備或用品？
380	下列哪一項物品不是從事海洋水域運動合適之安全裝備？
381	下列哪一個對於豐年蝦的敘述是錯的？
382	下列哪一個豐年蝦的繁殖說明是正確的？

383	磷蝦與豐年蝦都是水生生態鏈重要的底層生物，但人類因保健需求對磷蝦過度的捕撈已經造成生態干擾，以下敘述何者錯誤？
384	「龍涎香」在古代是上等藥材，也被拿來做為高級薰香，外觀看起來像石頭，但丟到水中會浮起來、遇到高溫還會融化、飄出特別的香味，其價格不斐，又有「海上漂浮的黃金」之稱，但其實是一種鯨類的分泌物，再排出體外後，隨著時間過去發生氧化所形成。請問「龍涎香」大多是哪種鯨類所分泌的？
385	每年11月至隔年4月，貢寮這邊會盛產一種著名的海產，過去此海產因病毒入侵而一度瀕臨滅絕，經過當地漁民和海洋大學的共同努力後，才終於慢慢復甦，請問這種海
386	每年9月至11月是貢寮地區九孔寶寶們的生產期，在九孔池中會擺滿塑膠浪板讓九孔寶寶附著，並且用什麼樣的食物去餵養這些九孔寶寶？
387	媽祖信仰被列為哪一類非物質文化遺產？
388	下列地區的海洋文化祭典，哪一個是錯誤的呢？
389	海洋文化信仰是臺灣很重要的文化，下列哪些廟宇不是常見的海洋信仰？
390	這幾年，因為環保意識抬頭，許多團體或個人都會自發性地去海邊進行淨灘活動，清除沿岸垃圾，並進行分類回收，請問這樣的行為符合SDGs指標中的哪一項？
391	臺灣是漁業大國，但其實我們有許多的在海上工作的漁工是來自其他國家，住在澳底的林群在網路上號召許多人捐贈生活物資及衣物，給予外籍漁工們一個更友善的環境，請問這樣的行為符合以下哪一組SDGs指標？
392	海水是種水溶液，而溶解在水中的物質稱為溶質。溶質和溶液的常用比例方式，下列何者為非？